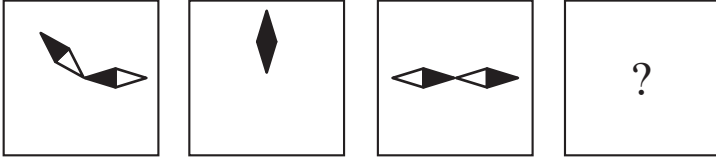


7. แพรทาสีห้องโดยทาสีชมพู 50% และสีส้ม 50% ก่อนเริ่มทาสีเธอมีถังที่เต็มไปด้วยสี 1.5 ลิตร 3 ถัง ถังแรกสีแดง ถังต่อมาสีเหลือง และถังสุดท้ายสีขาว เธอผสมสีแดงและสีเหลืองเท่าๆ กัน เพื่อสร้างสีส้ม เธอผสมสีแดงและสีขาวในอัตราส่วน 1 : 3 เพื่อสร้างสีชมพู เธอผสมจนได้สีส้มและชมพูในปริมาณที่ต้องการ หลังจากผสมสีเสร็จแล้ว เธอเหลือสีเหลือง 600 มิลลิลิตร แล้วเธอจะเหลือสีแดงอยู่เท่าใด
1. 150 มิลลิลิตร
  2. 300 มิลลิลิตร
  3. 450 มิลลิลิตร
  4. 500 มิลลิลิตร
  5. 700 มิลลิลิตร

## Homework


8.




1.



2.



3.



4.



5.



9. เติ้งซื้อแชมพูขนาด 3 ลิตร จาก **Temu** มาในราคา 300 บาท โดยปกติแล้วเติงจะใช้แชมพูขวดนี้หมดใน 1 เดือน แพรซื้อแชมพูขนาด 2 ลิตร จาก **Lazada** โดยมีราคาเท่ากับแชมพูที่เติงซื้อ แต่แพรใช้หมดในเวลา 40 วัน จงหาว่าค่าใช้จ่ายที่ใช้ในการสระผมโดยเฉลี่ยแต่ละวันของสองคนนี้ต่างกันเท่าใด
1. 1 บาท
  2. 2.5 บาท
  3. 3.3 บาท
  4. 7.5 บาท
  5. 10 บาท



ข้อมูลต่อไปนี้ใช้ในการหาคำตอบข้อ 10.-11.

|                           | M. | W  | D  | L  | goals | Dif. | Pt. |
|---------------------------|----|----|----|----|-------|------|-----|
| 1 Manchester City         | 34 | 26 | 5  | 3  | 85:22 | 63   | 83  |
| 2 Liverpool FC            | 34 | 25 | 7  | 2  | 87:23 | 64   | 82  |
| 3 Chelsea FC              | 34 | 20 | 9  | 5  | 71:28 | 43   | 69  |
| 4 Tottenham Hotspur       | 34 | 19 | 4  | 11 | 59:38 | 21   | 61  |
| 5 Arsenal Fc              | 34 | 19 | 3  | 12 | 52:43 | 9    | 60  |
| 6 Manchester United       | 34 | 15 | 9  | 10 | 53:51 | 2    | 54  |
| 7 west Ham United         | 34 | 15 | 7  | 12 | 52:44 | 8    | 52  |
| 8 Wolverhampton Wanderers | 34 | 15 | 4  | 15 | 34:34 | 0    | 49  |
| 9 Leicester City          | 34 | 12 | 10 | 12 | 51:52 | -1   | 46  |
| 10 Newcastle United       | 34 | 11 | 10 | 13 | 40:55 | -15  | 43  |
| 11 Brighton & Hove Albion | 34 | 9  | 14 | 11 | 31:42 | -11  | 41  |
| 12 Brentford FC           | 34 | 11 | 7  | 16 | 41:49 | -8   | 40  |

มีสโมสรร่วมกันแข่งขันในพรีเมียร์ลีก ในช่วงระหว่างฤดูกาล ทีมชนะได้ 3 คะแนน ทีมเสมอได้ 1 คะแนน และทีมแพ้ไม่ได้คะแนน ตลอดฤดูกาลทุกทีมจะต้องแข่งขันทั้งสิ้น 38 นัด ทีมจะถูกจัดอันดับโดยเรียงจากคะแนนผลประตูได้เสีย และผลประตูรวม หากยังคงเท่ากันทีมจะถือว่าครองตำแหน่งเดียวกัน โดย 4 ทีมที่ได้อันดับดีสุดจะได้ผ่านเข้าไปเล่นในยูฟ่าแชมเปียนส์ลีก

10. มีกี่ทีมที่ตอนนี้ไม่ได้เป็น 4 ทีมที่อันดับดีที่สุด แต่มีโอกาสเข้าไปเล่นในยูฟ่าแชมเปียนส์ลีกตอนจบฤดูกาลได้
1. 2 ทีม
  2. 3 ทีม
  3. 4 ทีม
  4. 6 ทีม
  5. 8 ทีม
11. ทีมในข้อใด ที่มีโอกาสเป็นแชมป์ตอนจบฤดูกาลได้
1. Manchester City
  2. Manchester City, Liverpool FC
  3. Manchester City, Liverpool FC, Chelsea FC
  4. Manchester City, Liverpool FC, Chelsea FC, Tottenham Hotspur
  5. Manchester City, Liverpool FC, Chelsea FC, Arsenal FC

